
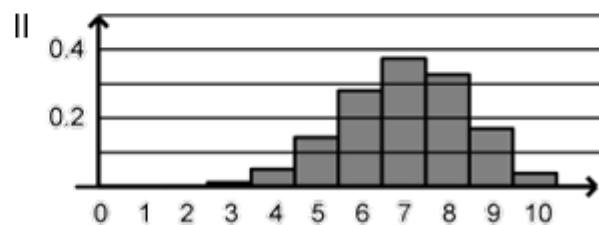
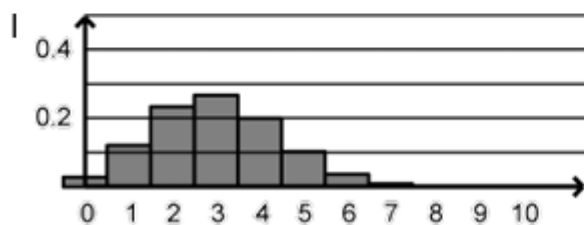


<ul style="list-style-type: none"> Jahr: 2019 Sachgebiet: Stochastik Niveau: grundlegend Hilfsmittelfreier Teil Aufgabengruppe 1 	<p>Quelle der Aufgabe: Gemeinsamer Abituraufgabenpool der Länder (Mathematik), Copyright: IQB e. V. – Lizenz: Creative Commons (CC BY) Volltext: https://creativecommons.org/licenses/by/3.0/de/legalcode Änderungen: Abdruck nur der Metadaten und des Aufgabentextes Video: Kommentierte Lösung durch mathehoch13</p>	
--	--	---

In einer Urne befinden sich drei rote und sieben weiße Kugeln.

a Zweimal nacheinander wird jeweils eine Kugel zufällig entnommen und wieder zurückgelegt. Berechnen Sie die Wahrscheinlichkeit dafür, dass höchstens eine der entnommenen Kugeln weiß ist.

b Zehnmal nacheinander wird jeweils eine Kugel zufällig entnommen und wieder zurückgelegt. Die Zufallsgröße X beschreibt die Anzahl der entnommenen weißen Kugeln. Begründen Sie ohne Berechnung von Wahrscheinlichkeiten, dass keine der folgenden Abbildungen die Wahrscheinlichkeitsverteilung von X darstellt.









BE

2

3

5



<p>Hat dir das Video/Material geholfen? – Dann...</p> <p>... nichts mehr verpassen:</p>  	<p>... unterstützen:</p>  <p>patreon.com/mathehoch13</p> 	<p>... mitgestalten:</p> <p>Feedback Videowünsche Anregungen</p>  <p>in the Youtube-Kommentaren</p>	<p>Über diesen Link kommst du zu vielen anderen relevanten Videos zum Thema:</p>  <p>Oder folge dem Info-Link, der oben rechts im Video eingeblendet wird.</p>
--	---	--	--

QPh	Stochastik	Abituraufgabe	Aufruf-ID: m13v0999
-----	------------	---------------	----------------------------

